




Das kann ich!

Beispiel

	Ich kann weniger gebräuchliche Maßeinheiten umrechnen.	Wie viele Liter sind 5 Hektoliter?
	Ich kann Hohlmaße in größere Einheiten umrechnen.	Wie viele Liter sind 0,25 mal 8?
	Ich kann gebräuchliche Maßeinheiten umrechnen.	1 Liter sind wie viele Milliliter?

Sehr gut, Sie haben alle Aufgaben gelöst!